








Wochenplan 3 für Klasse: 8b

Fach	Materialhinweis	Arbeitsanweisungen	✓
Deutsch	Deutschbuch	<p>Thema: Kurzgeschichten</p> <p>1. Informiere dich über Julia Franck im Internet und erstelle zur Autorin einen Steckbrief (halbe Seite) https://www.literaturport.de/Julia.Franck/</p> <p>2. Lies die Kurzgeschichte „Streuselschnecke“ von Julia Franck (Deutschbuch S. 82) und löse schriftlich die Aufgaben Nr.1 a, b, c und Nr. 2 a, b, c.</p> <p>3. Informiere dich über die drei Erzählperspektiven (Deutschbuch S. 288 oben), und halte die wichtigsten Informationen zum Ich-Erzähler, personalen Erzähler und auktorialen Erzähler in einem eigenen Lernkasten fest.</p> <p>Lösungen zu Aufgabe Nr. 2 werden an deine Emailadresse gesendet.</p>	
Mathematik	Buch S. 115 / Lern-App Anton	Wiederhole im Buch auf der Seite 115 die Prozentrechnung. Löse die Aufgaben 1, 2, 3, 6 und 7. Die Lösungen findest du auf Seite 214.	
Englisch	Workbook B	<p>-Work on pages 70-71 in your workbook.</p> <p>-Read the Info-box on p.88 in your book.</p> <p>-Prepare a collage on Native Americans (size A4). First choose a topic like reservations, totem poles, pow-wows, tribes ...</p> <p>-Go through Theme 4 and collect important information, you can use the internet, too. Your collage should contain information, pictures, drawings...</p>	
Erdkunde	Erdkundebuch	<p>Hallo, liebe Schülerinnen /liebe Schüler der 8b! Hoffentlich geht es Euch und Euren Familien gut! Wenn Ihr Fragen zu den Aufgaben habt oder einfach so schreiben wollt, schickt mir eine E-Mail an m.simon@rs-am-stadtpark.de Ich freue mich über jede Nachricht!</p> <p>Eure Frau Simon</p> <p><u>Folgen der Kolonialzeit als Grund für Armut</u></p> <p>-S. 142 die 2.Spalte und S.143 lesen!</p> <p>-Wie war das Inka-Reich vor der Ankunft der Europäer organisiert? Notiere mindestens 3 Aspekte!</p>	



Fach	Materialhinweis	Arbeitsanweisungen	✓
		<p>-S. 143/2 Zusatzinfo zu M2! Deutschlands Träume von Reichtum durch Kolonialismus verwirklichten sich nicht. Die Kosten z.B. von Militäreinsätzen waren viel höher als die Einnahmen.</p> <p>-Betrachte nun S. 145 /M3. Was sind „terms of trade“? Nutze hier auch das Internet und notiere eine Worterklärung.</p>	
Geschichte	Geschichtsbuch	S. 120-121 Nr. 1,2,3,5,6,7	
Chemie	Chemiebuch Youtube	<p>Die Reaktion von Magnesium mit Wasser ist eine Redoxreaktion: Schau dir das Video auf Youtube an: https://www.youtube.com/watch?v=IQ8Tx0gWM1E</p> <ol style="list-style-type: none"> 1) Fertige ein Versuchsprotokoll an. 2) Nenne die Reaktionsgleichung mit Worten. 3) Benenne das Reduktionsmittel und das Oxidationsmittel. 	
Politik	<p>https://www.zdf.de/ki/nder/logo/logo-erklart-die-folgen-fuer-die-wirtschaft-durch-corona-100.html</p> <p>https://www.zdf.de/ki/nder/logo/rettungspaket-corona-100.html</p> <p>https://www.zdf.de/ki/nder/logo/logo-erklart-corona-hilfspaket-100.html</p>	<ol style="list-style-type: none"> 1.Schau dir das Video „Corona: Die Folgen für die Wirtschaft“ an und halte schriftlich die Folgen fest. 2. Lies den Text „Rettungspaket soll Firmen und Familien helfen“ und schau dir das Video „Hilfspaket in der Corona-Krise“ an. 3. Halte schriftlich fest, wie Firmen und Familien geholfen werden soll (Schreibumfang: halbe Seite) <p><i>Wir wünschen euch schöne Osterferien zu Hause! Passt gut auf euch auf!</i></p> <p> +  + </p>	
Physik	AB auf der folgenden Seite	Löse die drei Aufgaben des AB auf der folgenden Seite!	

Abkürzungen: B = Buch / AH = Arbeitsheft / AB = Arbeitsblatt / S. = Seite / URL = Internetadresse

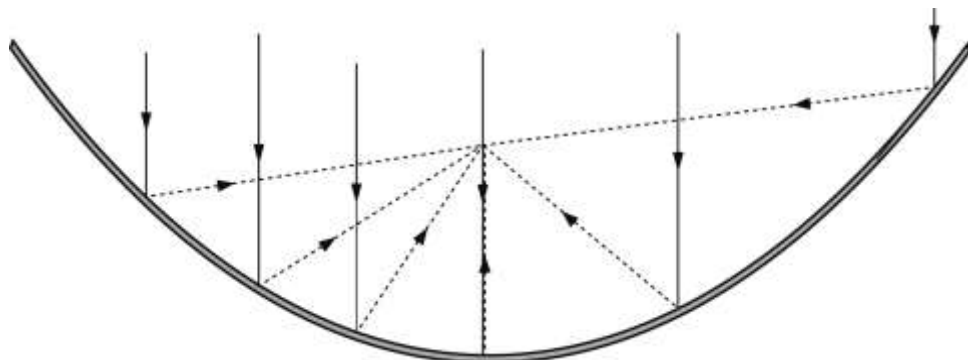


A1 Du siehst fünf verschieden geformte Spiegel und fünf Spiegelbilder einer Person. Die Spiegel sind in der Draufsicht gezeichnet, von links beleuchtet. Unter jedem Spiegel ist sein Profil eingezeichnet: ebener Spiegel (E), Wölbspiegel (W) oder Hohlspiegel (H). Ordne jedem Spiegelbild den passenden Spiegel zu.

The diagram shows a person on the left. To the right are five mirror images labeled A through E on a grid background. Below the images are five mirror types: E (flat), W (convex), H (concave), W (convex), and H (concave). Each mirror type has a profile line below it. To the left of the mirrors are three horizontal arrows labeled 'L', 'I', 'C', 'H', 'T' representing light rays from the left.

Spiegelbild: — — — — —

A2 Das Bild zeigt einen Hohlspiegel, der wie eine Parabel geformt ist und daher Parabolspiegel heißt. Stelle dir vor, der Spiegel sei aus kleinen ebenen Spiegeln zusammengesetzt.



Du möchtest mit Hilfe der Sonne und des Parabolspiegels eine Kanne Wasser erhitzen. An welche Stelle würdest du die Kanne anbringen? Begründe deine Entscheidung.

A3 Nenne Beispiele, in denen gewölbte Spiegel im täglichen Leben eingesetzt werden.
