


**Wochenplan 3 für Klasse/Kurs: 7 MK**

Fach	Materialhinweis	Arbeitsanweisungen	✓
Kunst	<p><a href="https://artinwords.de/impressionismus-wie-das-licht-auf-die-leinwand-kam/">https://artinwords.de/impressionismus-wie-das-licht-auf-die-leinwand-kam/</a></p> <p><a href="https://wortwuchs.net/literaturepochen/impressionismus/">https://wortwuchs.net/literaturepochen/impressionismus/</a></p>	<p><b><u>Der Impressionismus</u></b></p> <p>1. Gehe auf die website <b>artinwords</b>. Betrachte das Foto mit der Freilichtmalerei-Ausstattung des Malers Jules-Ernest Renoux.</p> <p>2. Lies den Text auf der website <b>artinwords</b> und beantworte folgende Frage: Welche technologischen Voraussetzungen, neuen Erfindungen, ermöglichte es den impressionistischen Künstlern, draußen zu malen?</p> <p>3. Gehe auf die website <b>wortwuchs</b> und lies den Text über die Kunstepoche des Impressionismus.</p> <p><b>a)</b> Wie heißt das Gemälde von Claude Monet, nachdem die Kunstepoche benannt wurde? (französisch und mit deutscher Übersetzung)</p> <p><b>b)</b> Beschreibe den <b>Farbauftrag</b>: Was sieht man, wenn man die Gemälde von Nahem betrachtet und was sieht man, wenn man die Gemälde von Ferne betrachtet ?</p> <p><b>c)</b> Beschreibe die <b>Farbwahl</b>: Welche typischen Farben haben die impressionistischen Maler gewählt ?</p> <p><b>4. praktische Aufgabe: digitale Fotografie</b></p> <p>Thema: Frühlingsblumen – das natürliche Licht einfangen</p> <p>Beobachte bei einem Spaziergang das Spiel von Licht und Schatten auf den Pflanzen in den Vorgärten oder einem Park.</p> <p>Mache 5 Fotos in Nahaufnahmen von Blumen (alternativ auch andere Pflanzen)</p> <p>Achte auf bunte, farbenfrohe Fotos mit starken Hell-Dunkel Kontrasten.</p>	✓



Biologie	B S. 32-33, Internetrecherche	Lies den Text im Buch durch und bearbeite anschließend in deinem Heft folgende Aufgaben:  1. Begründe ausführlich, weshalb Pilze keine Pflanzen sind.  2. Informiere dich im Internet über die beiden Pilze „Champignon“ und „Maronenröhrling“.  Vergleiche den Bau und die Lebensweise dieser beiden Pilze miteinander und beschreibe.
Chemie	AB (2 Seiten)	Drucke die Arbeitsblätter aus und bearbeite die Aufgabe!!

Abkürzungen: B = Buch / AH = Arbeitsheft / AB = Arbeitsblatt / S. = Seite / URL = Internetadresse

### Reinstoff oder Stoffgemisch?

Reinstoff: Ein einzelner Stoff


Stoffgemisch: Mehrere Stoffe

B	G	Z	U	C	K	E	R	R	H	F	T	G	H	U
A	F	G	V	Ö	M	G	H	T	L	X	E	A	D	R
V	H	L	Ä	A	F	S	E	G	F	A	E	S	C	N
M	H	D	R	O	T	W	E	I	N	A	W	Q	K	L
H	Ü	P	P	U	L	A	Ö	L	F	G	J	H	N	U
A	K	S	I	G	X	S	A	L	K	O	H	O	L	F
W	M	D	L	A	Ä	S	H	G	F	V	O	Ö	L	T
E	B	S	P	I	Ö	E	K	O	C	H	S	A	L	Z
T	U	K	Ü	F	L	R	Ö	Z	D	F	L	B	O	G
F	I	L	Z	S	T	I	F	T	F	A	R	B	E	R
U	U	V	Q	U	G	S	V	J	M	Q	J	S	E	P
H	E	G	A	P	H	A	I	V	Y	I	B	V	Ü	A
A	Ü	O	L	L	S	T	E	A	S	A	L	Y	F	P
N	N	L	U	K	C	D	M	C	O	U	K	C	Ä	F
D	P	D	M	N	R	U	V	F	P	X	G	W	H	E
C	Y	K	I	E	B	K	F	H	U	S	X	F	W	L
R	U	W	N	V	I	J	C	Z	X	X	S	C	D	S
E	K	A	I	W	U	S	Q	O	V	J	B	H	Z	A
M	T	S	U	S	A	U	E	R	S	T	O	F	F	F
E	G	U	M	W	R	P	A	Ö	P	U	P	J	I	T
I	K	O	H	L	E	N	S	T	O	F	F	I	I	O

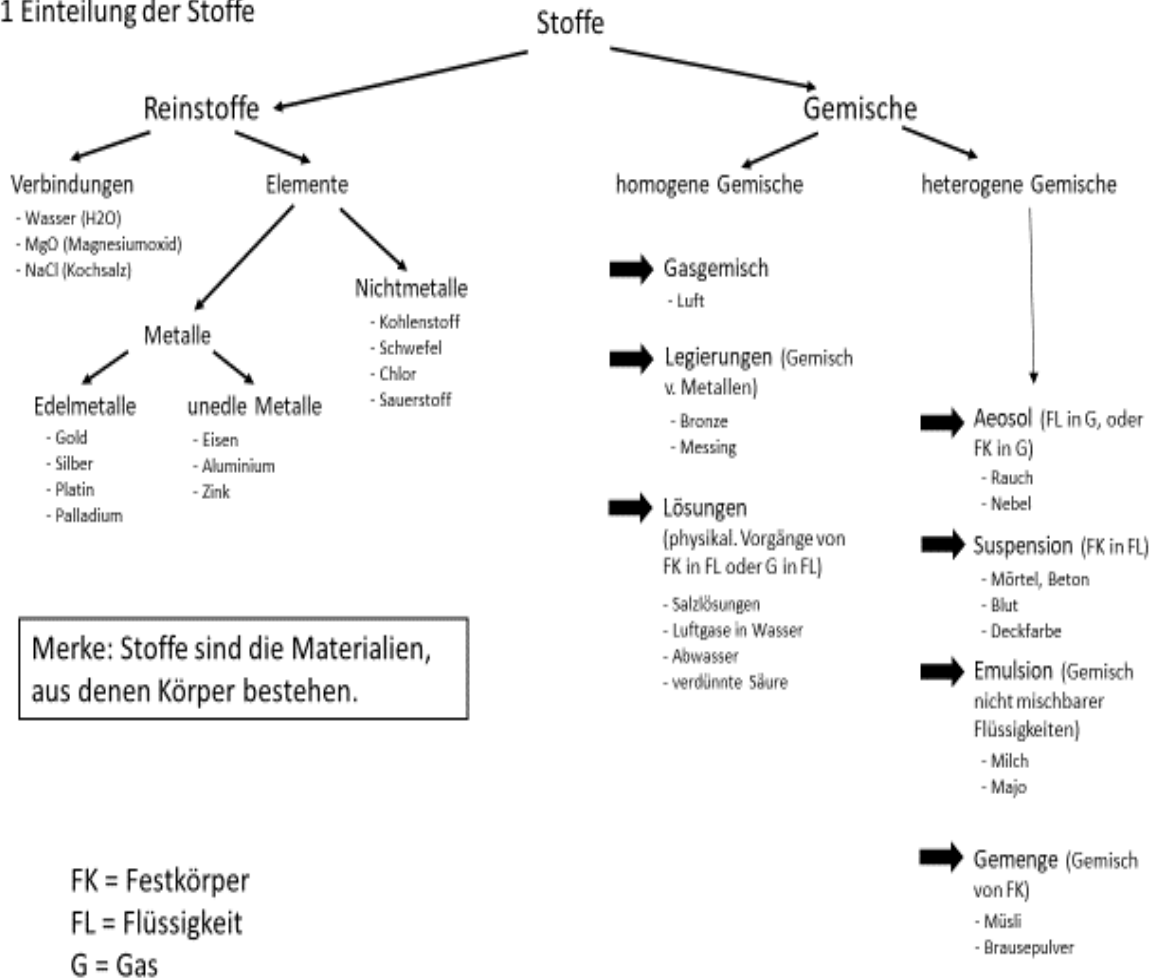
**Aufgabe: Suche die 18 Begriffe und ordne sie in einer Tabelle, wie unten, im Heft:**

Die Art des Stoffgemisches kannst du mithilfe der Darstellung (1 Einteilung der Stoffe, Seite 2) beschreiben.

Reinstoff	Stoffgemisch	Art des Stoffgemisches
-	Wein	Lösung
Go..	-	-



1 Einteilung der Stoffe



**Merke: Stoffe sind die Materialien,  
aus denen Körper bestehen.**

FK = Festkörper  
FL = Flüssigkeit  
G = Gas